

Hayat Bilgisi

Sınıf	Ünite No	Ünite Adı	Kazanım Sayısı	Ders Saati (Öngörülen Süre)	Ders Saati Yüzdesi
2	1	Okulumuzda Hayat	11	32	22
	2	Evimizde Hayat	3	26	18
	3	Sağlıklı Hayat	7	20	14
	4	Güvenli Hayat	6	17	12
	5	Ülkemizde Hayat	8	23	16
	6	Doğada Hayat	9	26	18
Toplam			50	144	100



MERAKLISINA

Test soruları daha zor sorulardır. Yapamadığınıza sakın üzülmeyin... Hepiniz çok özelsiniz. Biraz daha sizi bir üst seviyede düşünmeye itmek için konulmuştur.

- Öğrenciyi Geliştiren Testler
- PISA - TIMSS - OLİMPİYAT



MUTLU YAYINCILIK

HAYAT BİLGİSİ

Test 1	Okulumuzda Hayat	11	32	% 22
Test 2	Evimizde Hayat	3	26	% 18
Test 3	Sağlıklı Hayat	7	20	% 14
Test 4	Ara Dönem Değerlendirme 1	1, 2. ve 3 Üniteler		
Test 5	Ara Dönem Değerlendirme 2	1, 2 ve 3. Üniteler		

HAYAT BİLGİSİ

Test 6	Güvenli Hayat	6	17	% 12
Test 7	Ülkemizde Hayat	8	23	% 16
Test 8	Doğada Hayat	9	26	% 18
Test 9	Genel Değerlendirme 1	4, 5. ve 6. Üniteler		
Test 10	Genel Değerlendirme 2	1, 2, 3, 4, 5, ve 6. Üniteler		
Test 11	Genel Değerlendirme 3	1, 2, 3, 4, 5, ve 6. Üniteler		

YANIT ANAHTARI

ÜNİTE 1	1	2	3	4	5	6	7	8	9	10	11	12	13	14	15	16
Test 1	A	C	C	B	A	C	A	C	B	B	C	A	C	A	C	

ÜNİTE 2	1	2	3	4	5	6	7	8	9	10	11	12	13	14	15	16
Test 2	C	A	B	A	B	C	A	C	A	B	C	B	A	B	A	

ÜNİTE 3	1	2	3	4	5	6	7	8	9	10	11	12	13	14	15	16
Test 3	C	B	A	C	A	B	A	C	B	C	A	C	B	A	C	

	1	2	3	4	5	6	7	8	9	10	11	12	13	14	15	16
Test 4 A.D-1	A	C	A	B	A	C	B	C	A	C	B	A	C	A		

	1	2	3	4	5	6	7	8	9	10	11	12	13	14	15	16
Test 5 A.D-2	A	C	C	B	A	C	A	C	B	B	C	A	C			

ÜNİTE 4	1	2	3	4	5	6	7	8	9	10	11	12	13	14	15	16
Test 6	C	A	C	B	C	A	B	A	C	A	B	C	A	C		

ÜNİTE 5	1	2	3	4	5	6	7	8	9	10	11	12	13	14	15	16
Test 7	A	C	B	A	C	A	B	C	B	C	B	C	B	A	C	B

ÜNİTE 6	1	2	3	4	5	6	7	8	9	10	11	12	13	14	15	16
Test 8	A	B	C	A	C	B	C	A	B	A	C	A	B	C	A	

	1	2	3	4	5	6	7	8	9	10	11	12	13	14	15	16
Test 9 G.D-1	C	A	B	C	A	C	B	A	B	A	B	A	B	C		

	1	2	3	4	5	6	7	8	9	10	11	12	13	14	15	16
Test 10 G.D-2	A	C	A	B	A	C	B	C	A	C	B	A	C	A	C	

	1	2	3	4	5	6	7	8	9	10	11	12	13	14	15	16
Test 11 G.D-3	C	B	A	C	A	B	A	C	B	C	A	C				



1. Aşağıdakilerden hangisi fiziki özelliklerimizden biridir?

- A) Uzun boylu olmamız
- B) Futbol oynamayı sevmemiz
- C) Güler yüzlü olmamız

2. Her birey farklı özelliklere ve yeteneklere sahiptir. Bu durumlara karşı davranışımız nasıl olmalıdır?

- A) Bencil olmalıyız.
- B) Kıskanç olmalıyız.
- C) Hoşgörülü ve saygılı olmalıyız.

3. Ders araç ve gereçlerimizi hazırlarken neye dikkat ederek hazırlamalıyız?

- A) Bütün ders malzemelerimizi geliş güzel hazırlamalıyız.
- B) Bütün araçlarımızı çantamıza koymalıyız.
- C) Ders programına göre hazırlamalıyız.

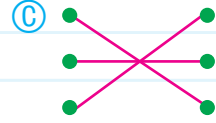
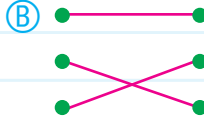
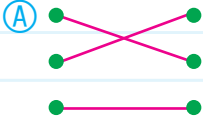
4. Aşağıdakilerden hangisi okulda kullandığımız kaynaklardan **değildir**?

- A) Su
- B) Petrol
- C) Elektrik

5.

Okulumuzun temiz olması için Sınıfa girmekDers zili çaldığında Yerlere çöp atmamakOkula geç kalmamak için Zamanında gitmek

Kurallara uygun davranışlar hangi seçenekte doğru olarak eşleştirilmiştir?



6.

Sınıf kuralları için konulmuştur.

Yukarıdaki cümlede boş bırakılan yere aşağıdakilerden hangisi yazılmalıdır?

- (A) okul temizliği
- (B) öğretmenler
- (C) düzeni sağlamak

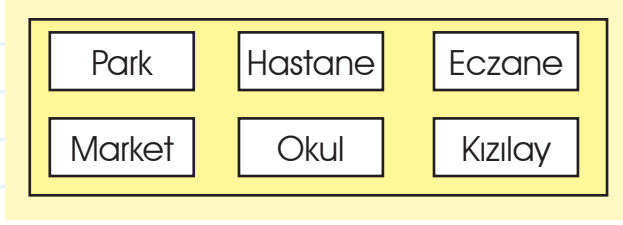
7.

Okuldaki grup çalışmalarına katılmak bize bir takım davranışlar kazandırır.

Aşağıdakilerden hangisi bu davranışlardan **değildir?**

- (A) Mutluluk kazandırır.
- (B) Sorumluluk kazandırır.
- (C) Hoşgörülü olmayı sağlar.

8.



Yukarıdaki şekle göre, okulun solunda hangi yer vardır?

- (A) Kızılay (B) Elektrik (C) Market

9. İletişimde nezaket ifadelerini kullanan İrem, aşağıdakilerden hangisini **söyemez**?

- (A) Güzel olmuş, elinize sağlık.
 (B) Getirsene!
 (C) İyi günler. Görüşürüz.

10. İyi bir dinleyici aşağıdaki davranışlardan hangisini **yapmaz**?

- (A) Konuşmacının sözünü kesmez.
 (B) Konuşmacının konuşmalarını önemsemez.
 (C) Konuşmacının yüzüne bakar.

11. Aşağıda verilen fiziksel özelliklerden hangisi büyüdükçe **değişmez**?

- (A) Boyumuz
 (B) Kilomuz
 (C) Göz rengimiz

1	(A)	(B)	(C)
2	(A)	(B)	(C)
3	(A)	(B)	(C)
4	(A)	(B)	(C)
5	(A)	(B)	(C)
6	(A)	(B)	(C)
7	(A)	(B)	(C)
8	(A)	(B)	(C)
9	(A)	(B)	(C)
10	(A)	(B)	(C)
11	(A)	(B)	(C)
12	(A)	(B)	(C)
13	(A)	(B)	(C)
14	(A)	(B)	(C)
15	(A)	(B)	(C)
16	(A)	(B)	(C)
17	(A)	(B)	(C)
18	(A)	(B)	(C)
19	(A)	(B)	(C)
20	(A)	(B)	(C)

12. **Aslı:** Paramı boşa harcamam.

Aslı'nın söylediğine göre, Aslı nasıl biridir?

- (A) Tutumlu (B) Öfkeli (C) Savurgan

13. **Oyunlarda uyulması gereken en önemli kural hangisidir?**

- (A) Oyunu kazananlara kızmak
(B) Oyunlarda ayrımcılık yapmak
(C) Oyunu kaybedenlerin, kazananları tebrik etmesi

14. **Arkadaş edinirken aşağıdaki kişisel özelliklerden hangisine dikkat **etmeyiz**?**

- (A) Uzun boylu olmasına
(B) Dürüst olmasına
(C) Güvenilir olmasına



MERAKLISINA

15. **Aşağıdaki öğrencilerden hangisinin davranışı **yanlıştır**?**

- (A) **Cem:** Oyun kurallarına uyarım.
(B) **Ece:** Oyunda iletişim ve nezaket kurallarına dikkat ederim.
(C) **Canan:** Oyunlarda ayrımcılık yaparım.



1. "Anne, baba ve çocuklardan oluşan toplumun en küçük birimine ne ad verilir?"

Yukarıdaki sorunun cevabı, aşağıdakilerden hangisidir?

- (A) Grup (B) Takım (C) Aile

2. **Babamızın erkek kardeşi bizim neyiz olur?**

- (A) Amcamız (B) Eniştemiz (C) Dayımız

3.

Ev adresimizi tanımadığımız kişilere verebiliriz.

Ev adresimizi bilmemiz gerekir.

Kaybolduğumuzda görevlilere adresimizi söyleriz.

Yukarıdaki ifadelerden doğru olanlara "D", yanlış olanlara "Y" harfi yazarsak tabloya sırasıyla hangi harfleri yazarız?

- (A) D - Y - D (B) Y - D - D (C) D - D - Y

4. **Adreste aşağıdakilerden hangisi yazılamaz?**

- (A) Telefon numarası
(B) Cadde ve Sokak adı
(C) Mahalle adı

5.

Odayı toplamak

Ütü yapmak

Çöp atmak

Sofraya tabakları koymak

Yemek yapmak

İkinci sınıf öğrencisi Emre, yukarıdaki işlerden kaç tanesini yaparak ailesine yardımcı olabilir?

A) 4

B) 3

C) 5

6. Özenli kullanılmayan eşyalar ne olur?

- A) Uzun zaman kullanılır.
- B) Kolay kolay bozulmaz.
- C) Çabuk eskir, kullanılamaz.

7. Aşağıdaki atasözlerinden hangisi tasarrufla ilgili bir atasözüdür?

- A) Damlaya damlaya göl olur.
- B) İyilik eden, iyilik bulur.
- C) Gülme komşuna, gelir başına.

8. **Melek:** Plan yaparsak

Melek, konuşmasına hangi ifade ile devam ederse **yanlış** bilgi vermiş olur?

- A) derslerimizde başarılı oluruz.
- B) işlerimizi zamanında bitiririz.
- C) yapacağımız işleri unuturuz.

9.

İhtiyaçlarımız	İsteklerimiz
Ayakkabı	Çikolata
Okul çantası	▲
■	Oyuncak

Tabloda sembollerle belirtilen yerlere hangi seçenekteki kelimeler yazılabilir?

- | | |
|--------------|----------|
| ■ | ▲ |
| (A) Deffer | Bisiklet |
| (B) Bisiklet | Mont |
| (C) Kaykay | Saat |

10. Çevremizdeki kişilere yardım ettiğimizde hangi duyguya bürünürüz?

- (A) Kıskançlık
(B) Mutluluk
(C) Bencilik

11. Bir ailenin gelir ve giderlerinin toplamına denir.

Yukarıda tanımı verilen kelime aşağıdakilerden hangisidir?

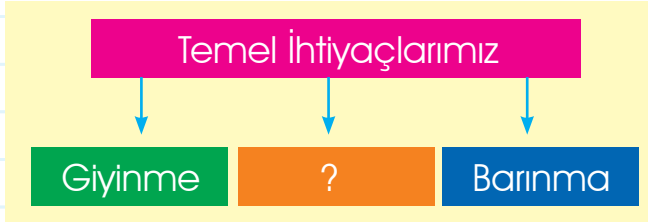
- (A) Maaş
(B) Tasarruf
(C) Aile Bütçesi

1	(A)	(B)	(C)
2	(A)	(B)	(C)
3	(A)	(B)	(C)
4	(A)	(B)	(C)
5	(A)	(B)	(C)
6	(A)	(B)	(C)
7	(A)	(B)	(C)
8	(A)	(B)	(C)
9	(A)	(B)	(C)
10	(A)	(B)	(C)
11	(A)	(B)	(C)
12	(A)	(B)	(C)
13	(A)	(B)	(C)
14	(A)	(B)	(C)
15	(A)	(B)	(C)
16	(A)	(B)	(C)
17	(A)	(B)	(C)
18	(A)	(B)	(C)
19	(A)	(B)	(C)
20	(A)	(B)	(C)

12. Alışveriş yaparken aşağıdakilerden öncelikle hangisine dikkat etmeliyiz?

- Ⓐ Alışveriş listesi yapmamıza gerek yoktur.
- Ⓑ Önce ihtiyaçlarımızı almalıyız.
- Ⓒ İsteklerimiz ihtiyaçlardan önce gelir.

13.



Yukarıda soru işareti ile gösterilen yere hangisi gelmelidir?

- Ⓐ Beslenme
- Ⓑ Eğitim
- Ⓒ Eğlenmek

14. Annemizin erkek kardeşine, kız kardeşine ise deriz.

Noktalı yerlere sırasıyla hangileri yazılmalıdır?

- Ⓐ amca - hala
- Ⓑ dayı - teyze
- Ⓒ dayı - hala



MERAKLISINA

15. Evdeki işleri kim yapmalıdır?

Sorusunun cevabı aşağıdakilerden hangisi olmalıdır?

- Ⓐ Aile bireyleri ortaklaşa yapmalıdır.
- Ⓑ Annemiz yapmalıdır.
- Ⓒ Kardeşimiz yapmalıdır.



1. Sağlıklı hayat için, aşağıdaki besin menülerinden hangisini tercih edersin?

A



B



C



2. "Vücudumuz için gereken besinleri yeteri kadar tüketmeliyiz. Buna denir.

Yukarıdaki ifadeye boş bırakılan yere hangisi yazılmalıdır?

- A) alkali beslenme
- B) dengeli beslenme
- C) hazır beslenme

3. Aşağıdaki besinlerden hangileri süttan elde edilir?

- A) Peynir - ayran - tereyağı
- B) Zeytin - reçel - bal
- C) Sosis - sucuk - salam

4. Aşağıdaki durumlardan hangisi görgü kuralı **değildir**?

- A) Ağzımızda yemek varken konuşmamalıyız.
- B) Yemeği pişirene "ellerinize sağlık" demeliyiz.
- C) Günde üç öğün yemek yemeliyiz.

5.

	Her besinden yeterince yemeliyiz.
	Sadece et ve sebze yemeliyiz.
	Kahvaltı yapmadan okula gitmemeliyiz.

Yukarıdaki ifadelerden doğru olanlara “D”, yanlış olanlara “Y” harfi koyduğumuzda sıralama nasıl olur?

A

D
Y
D

B

D
D
Y

C

D
Y
Y

6. **Eymen:** Çevre ve ev temizliğine neden dikkat etmeliyiz?

Eymen’in sorduğu sorunun cevabı hangisi olabilir?

- A) Üzerimizin kirlenmemesi için
- B) Sağlığımızı korumak ve sağlıklı olmak için
- C) İnsanlara güzel görünmek için

7.

▲	Toplum Sağlığı Merkezi
■	Postane
●	Eczane
★	Hastane

Yukarıda tabloda verilenlerden hangileri sağlıkla ilgili kurumdur?

A



B



C



8. Bedenimize acil müdahale gereken bir durum başımıza gelirse arayabileceğimiz acil telefon numarası aşağıdakilerden hangisidir?

(A) 110

(B) 155

(C) 112

9. Doktorun yazdığı ilaçları nereden alırsınız?


(A) Marketten

(B) Eczaneden

(C) Postaneden

10. Aşağıdaki kişisel eşyalarımızdan hangisini kardeşimizin kullanması doğru değildir?

(A)



(B)



(C)



1	(A)	(B)	(C)
2	(A)	(B)	(C)
3	(A)	(B)	(C)
4	(A)	(B)	(C)
5	(A)	(B)	(C)
6	(A)	(B)	(C)
7	(A)	(B)	(C)
8	(A)	(B)	(C)
9	(A)	(B)	(C)
10	(A)	(B)	(C)
11	(A)	(B)	(C)
12	(A)	(B)	(C)
13	(A)	(B)	(C)
14	(A)	(B)	(C)
15	(A)	(B)	(C)
16	(A)	(B)	(C)
17	(A)	(B)	(C)
18	(A)	(B)	(C)
19	(A)	(B)	(C)
20	(A)	(B)	(C)